

LÍNGUA PORTUGUESA

Leia o texto a seguir para responder às questões 1 e 2.



(Disponível em: www.estudokids.com.br/pleonasm-literario-e-vicioso/ Acesso em: 10 out. 2017.)

QUESTÃO 01

O texto se caracteriza como sendo do gênero

- (A) charge.
- (B) tirinha.
- (C) anedota.
- (D) relato.
- (E) conto.

QUESTÃO 02

No texto, a professora solicita ao aluno um exemplo de pleonasm, uma figura de linguagem usada para intensificar o significado de um termo por meio da repetição da própria palavra ou da ideia contida nela. O efeito de humor do texto decorre principalmente

- (A) da resposta equivocada do aluno.
- (B) do exemplo dado pelo aluno, ao intensificar a ideia de que todo político é mentiroso.
- (C) da falta de nexos entre a questão solicitada pela professora e a resposta dada.
- (D) da linguagem não verbal empregada.
- (E) do duplo sentido causado pela resposta do aluno.

Leia o texto "Bom conselho" e responda às questões de 3 a 6.

Bom conselho

Chico Buarque

Ouçã um bom conselho
 Que eu lhe dou de graça
 Inútil dormir que a dor não passa
 Espere sentado
 Ou você se cansa
 Está provado, quem espera nunca alcança

Venha, meu amigo
 Deixe esse regaço
 Brinque com meu fogo
 Venha se queimar
 Faça como eu digo
 Faça como eu faço
Aja duas vezes antes de pensar

Corro atrás do tempo
 Vim de não sei onde
 Devagar é que não se vai longe
 Eu semeio o vento
 Na minha cidade
 Vou pra rua e bebo a tempestade

(Disponível em: www.letras.mus.br/chico-buarque. Acesso em: 10 nov. 2017.)

QUESTÃO 03

Na letra da música composta por Chico Buarque, o cantor e compositor apropriou-se de alguns ditados populares. Tal procedimento constitui o que se chama de

- (A) anáfora.
- (B) pertinência.
- (C) pressuposição.
- (D) metáfora.
- (E) intertextualidade.

QUESTÃO 04

Na letra da música, Chico Buarque optou por parodiar os ditos populares, invertendo seus significados e atribuindo-lhes novos sentidos. Pode-se identificar a relação direta com os seguintes ditos populares, **exceto**:

- (A) Faça o que eu digo, mas não faça o que faço.
- (B) Quem brinca com fogo sai queimado.
- (C) Um grama de exemplos vale mais que uma tonelada de conselhos.
- (D) Devagar se vai ao longe!
- (E) Quem semeia vento, colhe tempestade.

QUESTÃO 05

O segmento sublinhado em "Espere sentado ou você se cansa" expressa, no contexto, noção de

- (A) concessão.
- (B) consequência.
- (C) condição.
- (D) alternância.
- (E) finalidade.

QUESTÃO 06

Assinale a alternativa que apresenta a correta e respectiva classificação gramatical das palavras sublinhadas no texto.

- (A) Adjetivo — verbo — preposição — advérbio.
- (B) Pronome — verbo — verbo — substantivo.
- (C) Numeral — substantivo — conjunção — adjetivo.
- (D) Adjetivo — pronome — verbo — advérbio.
- (E) Substantivo — pronome — preposição — adjetivo.

Responda às questões 07 e 08, tomando por base a leitura do texto a seguir.

PNEU FURADO

O carro estava encostado no meio-fio, com um pneu furado. De pé ao lado do carro, olhando desconsoladamente para o pneu, uma moça muito bonitinha.

Tão bonitinha que atrás parou outro carro e dele desceu um homem dizendo “Pode deixar”.

Ele trocava o pneu.

— Você tem macaco? — perguntou o homem.

— Não — respondeu a moça.

— Tudo bem, eu tenho — disse o homem —

Você tem estepe?

— Não — disse a moça.

— Vamos usar o meu — disse o homem.

E pôs-se a trabalhar, trocando o pneu, sob o olhar da moça.

Terminou no momento em que chegava o ônibus que a moça estava esperando. Ele ficou ali, suando, de boca aberta, vendo o ônibus se afastar.

Dali a pouco chegou o dono do carro.

— Puxa, você trocou o pneu pra mim. Muito obrigado.

— É. Eu... Eu não posso ver pneu furado.

Tenho que trocar.

— Coisa estranha.

— É uma compulsão. Sei lá.

(Luís Fernando Veríssimo. Livro: Pai não entende nada. L&PM, 1991).

QUESTÃO 07

Mesmo que não esteja claro no texto, podemos inferir que o homem

- (A) sofre de uma compulsão grave.
- (B) é muito solícito e gosta de ajudar pessoas em apuros.
- (C) achou que receberia algum dinheiro pelo serviço prestado.
- (D) trocou o pneu com o intuito de impressionar a jovem.
- (E) percebeu que ajudaria alguém importante.

QUESTÃO 08

Com relação à compreensão do texto, assinale a alternativa correta.

- (A) Na última parte do texto, “— É uma compulsão. Sei lá.”, a fala é do dono do carro.
- (B) A moça olhava desconsoladamente para o pneu, pois não sabia como trocá-lo.
- (C) O proprietário do carro agradeceu ao homem que trocou o pneu, embora achasse estranha sua atitude.
- (D) O homem trocou o pneu, pois já conhecia o dono do carro.
- (E) O objetivo principal do texto é destacar a importância de ajudar o próximo.

QUESTÃO 09**Regionalismos**

O Brasil é um país com um território amplo e mesmo assim ainda possui uma língua única. Além de contribuir para uma grande diversidade nos hábitos culturais, religiosos, políticos e artísticos, a influência de várias culturas deixou na língua portuguesa marcas que acentuam a riqueza de vocabulário e de pronúncia. É importante destacar que as diferenças na nossa língua não constituem erro, mas são consequências das marcas deixadas por outros idiomas que entraram na formação do português brasileiro. Entre esses idiomas estão os indígenas e africanos, além dos europeus, como o francês e o italiano. A influência desses elementos presentes em cada região do país, aliada ao desenvolvimento histórico de cada lugar, fez com que surgissem regionalismos, isto é, expressões típicas de determinada região. Essa variedade linguística pode se manifestar na construção sintática (por exemplo, em algumas regiões se diz “*sei não*”, em outras “*não sei*”), mas a grande maioria dos regionalismos ocorre no vocabulário. Assim, um mesmo objeto pode ser nomeado por palavras diversas, conforme a região. Por exemplo: no Rio Grande do Sul, pipa ou papagaio se chama pandorga; semáforo pode ser designado por farol em São Paulo e por sinal ou sinaleiro no Rio de Janeiro.

(Disponível em: <http://letrasmarques2013.blogspot.com.br/2013/08/regionalismos.html>. Adaptado. Acesso em: 09 nov. 2017.)

A partir da leitura do texto acima, é possível afirmar que

- (A) a maior parte dos regionalismos encontrados na língua portuguesa são produtos de construções sintáticas.

- (B) o uso de palavras características de determinadas regiões deve ser evitado, pois configura erro de formação da língua portuguesa.
- (C) a influência de outros idiomas na língua portuguesa causou confusão no vocabulário e pronúncia, deixando marcas negativas.
- (D) as expressões típicas de diferentes regiões do Brasil são o reflexo da influência de outras línguas/culturas e do desenvolvimento histórico de cada lugar.
- (E) o fato do Brasil ser um país de grande extensão territorial contribuiu para que possua diferentes línguas e, conseqüentemente, um grande número de regionalismos.

QUESTÃO 10




(Disponível em: <https://tirasarmandinho.tumblr.com/> - tirinhas 2494/17 e 2495/17. Acesso em: 09 nov. 2017.)

Na tirinha acima é possível observar um exemplo de regionalismo, pois retrata

- (A) crianças fazendo diferentes pedidos.
- (B) um adulto explicando que “macaxeira”, “mandioca” e “aipim” designam uma mesma planta.
- (C) um adulto explicando que “macaxeira”, “mandioca” e “aipim” são palavras diferentes que designam plantas distintas.
- (D) crianças em diferentes regiões do Brasil.
- (E) um adulto confuso quanto ao pedido das crianças, uma vez que utilizaram diferentes palavras para a mesma planta.

QUESTÃO 11


Observe as tirinhas a seguir e depois responda ao que se pede.



Copyright ©1999 Mauricio de Sousa Produções Ltda. Todos os direitos reservados.

5122

(Disponível em: <http://hqsediversidades.blogspot.com.br/p/tirinhas-da-turma-damonica.html>. Tirinha 5122. Acesso em 10 nov. 2017.)



Copyright ©1999 Mauricio de Sousa Produções Ltda. Todos os direitos reservados.

6799

(Disponível em: <http://tirinhaturmadamonica.blogspot.com.br/2013/03/novas-tirinhas.html>. Tirinha 6799. Acesso em: 10 nov. 2017.)

O humor presente nas duas tirinhas decorre principalmente do fato de Cascão e Cebolinha

- (A) utilizarem a fotografia para registrar situações que de fato aconteceram.
- (B) terem encontrado uma forma de retratar a realidade.
- (C) fazerem uso da fotografia para registrar situações falsas.
- (D) não saberem tirar fotos.
- (E) terem criado situações falsas para melhorar o ângulo da foto.

QUESTÃO 12

Entre os processos gerais de formação de palavras na língua portuguesa está a redução ou abreviação vocabular. Por meio desse recurso, é possível simplificar as palavras sem que as mesmas percam seu sentido. Pode-se tomar como exemplo o vocábulo “fotografia”, que apresenta a forma reduzida “foto”. Baseando-se nessas informações, marque a alternativa que apresenta a correspondência **incorreta** entre a palavra e sua forma reduzida, respectivamente.

- (A) Pneu – pneumático.
- (B) Moto – motocicleta.
- (C) Otorrinolaringologista – otorrino.
- (D) Quilo – quilowatt.
- (E) Telefone – fone.

Leia o texto a seguir para responder às questões 13 e 14.

Fantasia

Para mim o *Halloween* é a melhor festa do mundo. Melhor até que o Natal. Posso usar fantasia. Usar máscara. Posso andar por aí como qualquer outra criança fantasiada e ninguém me acha estranho. Ninguém olha para mim duas vezes. Ninguém me nota. Ninguém me reconhece.

Eu gostaria que todos os dias fossem *Halloween*. Poderíamos ficar mascarados o tempo todo. Então andaríamos por aí e conheceríamos as pessoas antes de saber como elas são sem máscara. [...]

Tenho fotos com todas as minhas fantasias de *Halloween*. A primeira foi de abóbora. A segunda de Tigrão. A terceira foi de Peter Pan (o papai se vestiu de Capitão Gancho). Na quarta vez me vesti de Capitão Gancho (o papai estava de Peter Pan). Na quinta fui de um astronauta.[...]

(Palacio, R. J. O Extraordinário. Tradução Rachel Agavino. 2 ed. Rio de Janeiro: Intrínseca. 2014. p. 56)

QUESTÃO 13

O livro “O Extraordinário”, de R.J. Palacio, conta a história de August Pullman, um menino que logo ao nascer foi diagnosticado com uma síndrome genética que o deixou com deformidades na face. O livro é dividido em capítulos narrados por diferentes personagens. O trecho acima faz parte da narrativa de August e a partir de sua leitura é possível inferir que

- ele gosta de todas as datas comemorativas, principalmente o *Halloween*.
- o *Halloween* é sua festa predileta, pois pode se fantasiar de personagens assustadores.
- embora sua família não o acompanhe no *Halloween*, ele se diverte bastante.
- mesmo preferindo o Natal, ele gosta do *Halloween* pois pode se fantasiar e circular entre as pessoas sem ser notado por sua aparência.
- ele gosta do *Halloween* pois pode circular fantasiado entre as pessoas e não ser notado por sua aparência.

QUESTÃO 14

Com relação ao texto lido e à correta classificação dos tipos de sujeito das orações, analise as afirmativas a seguir.

- “Posso usar fantasia.” – Sujeito oculto.
- “Ninguém olha para mim duas vezes.” – Sujeito indeterminado.
- “Poderíamos ficar mascarados o tempo todo” – Sujeito composto.
- “Eu gostaria que todos os dias fossem *Halloween*.” – Sujeito simples.
- “Tenho fotos com todas as minhas fantasias de *Halloween*” – Sujeito simples.

Após essa análise, escolha a alternativa que contém somente afirmativas corretas.

- I e IV apenas.
- I, II e IV apenas.
- II, III e IV apenas.
- II, III e V apenas.
- III e IV apenas.

QUESTÃO 15

Leia o texto e analise as afirmativas a seguir.

Esses vinte anos se passaram como vinte séculos, mas me lembro deles como se fossem apenas vinte dias, me lembro do dia do nosso casamento, me lembro de como ela estava linda, me lembro de ter pensado em como eu era sortudo por tê-la ao meu lado, ela sempre esteve ao meu lado, mas eu nunca estive ao seu. Em vinte anos ela se dedicou exclusivamente a mim, mas eu não fiz o mesmo.

(CARVALHO, Aaron. 20 anos. Site Jornal da Nova. Disponível em <http://www.jornaldanova.com.br/noticia/355972/20-anos>. Adaptado. Acesso em: 20 set. 2017.)

- A gramática normativa prevê que frases não devem ser iniciadas com pronome oblíquo átono, porém o autor optou pelo uso da mesóclise nos trechos em destaque: “me lembro do dia do nosso casamento, me lembro de como ela estava linda, me lembro de ter pensado em como eu era sortudo [...]” para obter um efeito de sentido: aproximar-se da fala.
- O mecanismo empregado no trecho em destaque chama-se próclise: “me lembro de ter pensado em como eu era sortudo por tê-la ao meu lado”.
- Houve elipse da palavra *lado* ao final da frase: “ela sempre esteve ao meu lado, mas eu nunca estive ao seu”;
- O trecho “Em vinte anos ela se dedicou exclusivamente a mim, mas eu não fiz o mesmo” pode ser reescrito, sem prejuízo de sentido, da seguinte forma: “Embora ela tenha se dedicado exclusivamente a mim em vinte anos, eu não fiz o mesmo”.

Assinale a alternativa que contém somente afirmativas corretas.

- (A) I e II apenas.
- (B) I e III apenas.
- (C) II e III apenas.
- (D) II e IV apenas.
- (E) III e IV apenas.

QUESTÃO 16

Os acentos gráficos e sinais de nasalização foram suprimidos do texto a seguir. Assinale a alternativa que apresenta o texto com a acentuação correta.

SUIÇA

Travessia a meio, com paragem em Zurique. Lembrei-me logo dos suíços que conhecera em Portugal e que se diziam aliviados por poderem praticar cá “pequenos delitos” lá proibidos, como deitar papéis para o chão num café, tantas restrições havia... País tão organizado, tão alinhado que até as ervas dos montes parecem aparadas. Foi a ideia com que fiquei.

(Disponível em <http://viagempartilhada.blogspot.com.br/2009/07/>. Acesso em: 10 nov. 2017).

- (A) Travessia a meio, com paragem em Zurique. Lembrei-me logo dos suíços que conhecera em Portugal e que se diziam aliviados por poderem praticar cá “pequenos delitos” lá proibidos, como deitar papéis para o chão num café, tantas restrições havia... País tão organizado, tão alinhado que até as ervas dos montes parecem aparadas. Foi a ideia com que fiquei.
- (B) Travessia a meio, com paragem em Zurique. Lembrei-me logo dos suíços que conhecera em Portugal e que se diziam aliviados por poderem praticar cá “pequenos delitos” lá proibidos, como deitar papéis para o chão num café, tantas restrições havia... País tão organizado, tão alinhado que até as ervas dos montes parecem aparadas. Foi a ideia com que fiquei.
- (C) Travessia a meio, com paragem em Zurique. Lembrei-me logo dos suíços que conhecera em Portugal e que se diziam aliviados por poderem praticar cá “pequenos delitos” lá proibidos, como deitar papéis para o chão num café, tantas restrições havia... País tão organizado, tão alinhado que até as ervas dos montes parecem aparadas. Foi a ideia com que fiquei.
- (D) Travessia a meio, com paragem em Zurique. Lembrei-me logo dos suíços que conhecera em Portugal e que se diziam aliviados por poderem

praticar cá “pequenos delitos” lá proibidos, como deitar papéis para o chão num café, tantas restrições havia... País tão organizado, tão alinhado que até as ervas dos montes parecem aparadas. Foi a ideia com que fiquei.

- (E) Travessia a meio, com paragem em Zurique. Lembrei-me logo dos suíços que conhecera em Portugal e que se diziam aliviados por poderem praticar cá “pequenos delitos” lá proibidos, como deitar papéis para o chão num café, tantas restrições havia... País tão organizado, tão alinhado que até as ervas dos montes parecem aparadas. Foi a ideia com que fiquei.

QUESTÃO 17



(Disponível em: <http://tiras-do-calvin.tumblr.com/page/2> Acesso em: 10 nov. 2017)

Com base na análise do texto, indique a alternativa que classifica corretamente as palavras retiradas da fala de Calvin, no segundo quadrinho da tirinha.

- (A) Está (verbo) – em (preposição) – algum (substantivo) – lugar (substantivo) – por (preposição) – aqui (advérbio).
- (B) Está (verbo) – em (preposição) – algum (pronome) – lugar (substantivo) – por (preposição) – aqui (advérbio).

- (C) Está (verbo) – em (conjunção) – algum (substantivo) – lugar (advérbio) – por (preposição) – aqui (advérbio).
- (D) Está (pronome) – em (conjunção) – algum (adjetivo) – lugar (verbo) – por (conjunção) – aqui (advérbio).
- (E) Está (pronome) – em (preposição) – algum (pronome) – lugar (advérbio) – por (conjunção) – aqui (advérbio).

Leia o texto a seguir para responder às questões de 18 a 20.

Onde Judas perdeu as botas

Do ponto de vista histórico, bem sabemos que o homem tem a incrível capacidade de fantasiar e transformar as narrativas que lhe estão disponíveis. Um texto ou ditado popular sofre apropriações e reinterpretções que os transforma em um bem cultural subordinado ao interesse e o costume dos homens de uma época. De fato, seriam bastantes os exemplos que sustentam essa tese.

Entre a Antiguidade e a Idade Média, por exemplo, a inacessibilidade aos textos bíblicos foi responsável pela criação de várias narrativas envolvendo os personagens cristãos. Os feitos e destinos de certos nomes presentes na Bíblia ganhavam acréscimos e certas distorções que salientavam a forte presença do cristianismo no imaginário dessa época. Levando em conta que boa parte da população era iletrada, ficava difícil de impor um rigor de verdade entre as várias histórias de cunho bíblico.

Por meio de um desses mitos, acabamos por descobrir a origem de uma expressão popular utilizada quando algo fica bastante longe ou “onde Judas perdeu as botas”. Na Bíblia, não existe nenhum indício ou relato de que Judas Iscariotes, o delator de Cristo, teria ou não o hábito de calçar botas. Contudo, uma antiga história popular dizia que o discípulo traidor teria escondido em um par de botas as trinta moedas que firmaram o acordo com os sacerdotes judeus.

Comprovando a natureza mítica do relato, até hoje ninguém teve a oportunidade de descobrir o lugar onde as botas de Judas teriam ficado escondidas. Dessa forma, com o passar do tempo, o lugar “onde Judas perdeu as botas” foi sendo empregado para quando alguém não conseguia encontrar algo ou indicar algum território longínquo, de difícil acesso. Por fim, bem sabemos que a antiga fantasia do imaginário cristão acabou ficando viva nessa expressão ainda tão empregada.

(SOUSA, Rainer Gonçalves. "Onde Judas perdeu as botas"; Brasil Escola. Disponível em:

<http://brasilecola.uol.com.br/curiosidades/onde-judas-perdeu-as-botas.htm/> Acesso em: 10 nov. 2017)

QUESTÃO 18

Na passagem “Do ponto de vista histórico, bem sabemos que o homem tem a incrível capacidade de fantasiar e transformar as narrativas que **lhe** estão disponíveis.”, a palavra destacada tem função anafórica em relação ao vocábulo

- (A) narrativas.
 (B) capacidade.
 (C) que.
 (D) homem.
 (E) texto.

QUESTÃO 19

Na passagem “Levando em conta que boa parte da população era **iletrada**, ficava difícil de impor um rigor de verdade entre as várias histórias de cunho bíblico.”, a palavra destacada foi estruturada a partir do processo morfológico conhecido como

- (A) derivação imprópria.
 (B) derivação regressiva.
 (C) derivação prefixal e sufixal.
 (D) composição prefixal.
 (E) composição prefixal e sufixal.

QUESTÃO 20

No trecho “**Por fim**, bem sabemos que a antiga fantasia do imaginário cristão acabou ficando viva nessa expressão ainda tão empregada.”, pode-se afirmar que a expressão destacada

- (A) apresenta o sentido de explicação e pode ser substituída, sem alteração de sentido, por “por isso”.
- (B) apresenta o sentido de explicação e pode ser substituída, sem alteração de sentido, por “portanto”.
- (C) apresenta o sentido de finalidade e pode ser substituída, sem alteração de sentido, por “a fim de”.
- (D) apresenta o sentido de conclusão e pode ser substituída, sem alteração de sentido, por “entretanto”.
- (E) apresenta o sentido de conclusão e pode ser substituída, sem alteração de sentido, por “portanto”.

MATEMÁTICA**QUESTÃO 21**

Gabiroba é uma fruta típica do cerrado. No Mato Grosso do Sul ela é conhecida como guavira. No dia 08/11/2017 foi publicado no Diário Oficial do Estado de Mato Grosso do Sul a lei que declara a guavira como fruto símbolo do estado. Pesquisas realizadas em laboratório revelam que a guavira possui 20 vezes mais vitamina C do que a laranja. Sabendo que, em média, uma porção de 130 g de laranja possui 70 mg de vitamina C, a quantidade, aproximada, de vitamina C em uma porção de 300 g de guavira é

- (A) 3.231 mg.
- (B) 162 mg.
- (C) 1.400 mg.
- (D) 21.0000 mg.
- (E) 3.331 mg.

QUESTÃO 22

Uber é um serviço de transporte alternativo oferecido através de um aplicativo. Em Campo Grande o serviço teve início em setembro de 2016. Lucas solicitou um Uber e fez uma viagem de 20 quilômetros com duração de 30 minutos. Considerando a tabela abaixo, qual o valor pago por Lucas nessa viagem?

Preço base (fixo)	Preço por quilômetros rodados	Preço por minuto de viagem
R\$ 2,80	R\$ 1,10	R\$ 0,20

- (A) R\$ 4,10
- (B) R\$ 28,00
- (C) R\$ 30,80
- (D) R\$ 32,80
- (E) RS 56,00

QUESTÃO 23

Afonso tem 700 bolinhas de gude idênticas com volume de $0,5 \text{ cm}^3$ cada uma. Ele coloca as esferas em um jarro cilíndrico vazio, cujo volume ele quer conhecer. Adiciona 800 mililitros (ml) de água às bolinhas, enchendo completamente o jarro. Qual o volume do cilindro determinado por Alfredo? Dado: $1 \text{ ml} = 1 \text{ cm}^3$ e $1 \text{ litro} = 1000 \text{ mililitros}$.

- (A) 1,150 litros.
- (B) 835 mililitros.
- (C) 1150 litros.
- (D) 11,50 litros.
- (E) 1700 mililitros.

QUESTÃO 24

Mariana resolveu inovar e utilizar um dodecaedro como “dado” em um jogo de tabuleiro. Para isso, ela numerou as faces desse dodecaedro de 1 a 12 (como mostra a figura abaixo).



(Disponível em <http://turma232ff.blogspot.com.br/2015/04/kauana-santos-dodecaedro.html>. Acesso em: 10 nov. 2017.)

A probabilidade de Mariana jogar o dodecaedro e na face superior aparecer um número primo é

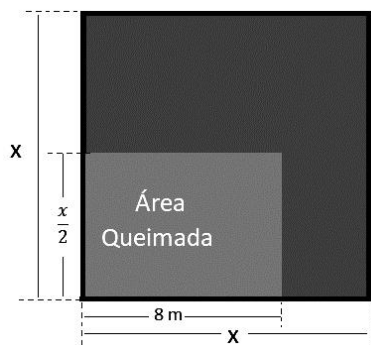
- (A) 33,33% aproximadamente.
- (B) 50% aproximadamente.
- (C) 41,67% aproximadamente.
- (D) 58,33% aproximadamente.
- (E) 25% aproximadamente.

QUESTÃO 25

De acordo com o Instituto Nacional de Pesquisas Espaciais – INPE, mais de 83% dos focos de incêndio se concentram nos biomas Cerrado e Amazônia. Apesar disso, segundo dados do mesmo instituto, Corumbá – MS, região do bioma Pantanal, é um dos municípios brasileiros com maior incidência de queimadas.

(Disponível em: <http://www.brasil.gov.br/meio-ambiente/2016/08/amazonia-e-cerrado-sao-os-biomas-mais-atingidos-por-queimadas-no-inverno>. Adaptado. Acesso em: 11 nov. 2017.)

Em um município sul-mato-grossense, um agricultor perdeu parte de sua plantação devido a um incêndio por causa humana. Da lavoura, em forma de quadrado de lado X , uma área retangular de $X/2$ metros de largura ao sul e 8 metros de comprimento ao leste foi queimada, conforme ilustra a figura, restando $2/3$ (dois terços) do terreno. Qual a área original da lavoura?



- (A) 144 m²
- (B) 48 m²
- (C) 201 m²
- (D) 152 m²
- (E) 64 m²

QUESTÃO 26

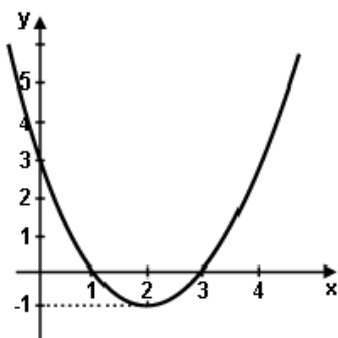
Carlos tinha R\$ 800,00 depositados em uma conta bancária, mas fez sucessivos saques: o 1º saque foi de R\$ 300,00; o 2º saque foi de R\$ 400,00 e o 3º saque foi de R\$ 300,00. Após os saques, Carlos retirou o extrato no banco e verificou que possuía em torno de

- (A) R\$ 200,00 de crédito.
- (B) R\$ 300,00 de crédito.
- (C) R\$ 1.000,00 de débito.
- (D) R\$ 200,00 de débito.
- (E) R\$ 0,00.

QUESTÃO 27

Chama-se função quadrática, ou função polinomial do 2º grau, qualquer função f de \mathbb{R} em \mathbb{R} dada por uma lei da forma $f(x) = ax^2 + bx + c$, onde a , b e c são números reais e $a \neq 0$.

(Disponível em <http://www.somatematica.com.br/emedio/funcao2/funcao2.php>. Acesso em: 11 nov. 2017)



O gráfico acima representa a função quadrática

- (A) $f(x) = x^2 + 4x + 3$
- (B) $f(x) = -x^2 + 4x + 3$
- (C) $f(x) = 2x^2 + 4x + 3$
- (D) $f(x) = x^2 + 2x + 3$
- (E) $f(x) = x^2 - 4x + 3$

QUESTÃO 28

O aquário de Juninho tem 30 cm de comprimento, 15 cm de largura e 20 cm de altura. Para enchê-lo até a borda, ele utilizou uma mangueira com vazão de 90 litros por hora. Quanto tempo ele levou para encher o aquário?

- (A) 6 horas.
- (B) 50 minutos.
- (C) 6 minutos.
- (D) 1 hora.
- (E) 100 horas.

QUESTÃO 29

Em um mercado, têm-se os seguintes preços:

Maçã nacional (kg)	R\$ 2,90
Mamão formosa (unidade)	R\$ 3,95
Laranja (kg)	R\$ 0,88

João foi a esse mercado com R\$ 20,00 e comprou as seguintes quantidades: 1,4 kg de maçã nacional; 3 mamões formosa; 3,5 kg de laranja. A partir dessas informações, assinale a alternativa correta.

- (A) João conseguiu comprar todos os itens e teve troco de R\$ 1,00.
- (B) João não conseguiu comprar todos os itens, pois faltou R\$ 1,01.
- (C) João conseguiu comprar todos os itens e teve troco de R\$ 1,01.
- (D) A compra de João deu exatamente R\$ 20,00.
- (E) João não conseguiu comprar todos os itens, pois faltou R\$ 1,00.

QUESTÃO 30

Um professor desafiou seus estudantes a resolverem a seguinte expressão:

$$(2^{-3,5} \times \sqrt{50}) + 0,125 + \frac{7}{28}$$

Assinale a alternativa que apresenta o resultado correto dessa expressão.

- (A) 1
- (B) $\sqrt{2}$
- (C) 2^{-1}
- (D) 1,8
- (E) 2

QUESTÃO 31

Avalie as afirmações abaixo e assinale a única resposta correta que retrata, respectivamente, se cada uma destas frases é verdadeira (V) ou falsa (F).

- I. Todo número racional é inteiro.
- II. Todo número inteiro é racional.
- III. O número 2,3333... é racional.
- IV. O número $\sqrt{2}$ é irracional.

- (A) V, V, F, F.
- (B) V, F, V, V.
- (C) F, F, V, F.
- (D) F, V, V, V.
- (E) F, V, F, V.

QUESTÃO 32

De acordo com o Instituto Brasileiro de Geografia e Estatísticas (IBGE), Mato Grosso do Sul é o segundo estado brasileiro em número de índios, contando hoje com cerca de 80 mil pessoas declaradas indígenas. Dentre eles, destacam-se os Terenas, Guarani, Kadiwéu entre outros.

(Disponível em <http://www.midiamax.com.br/cotidiano/populacao-indigena-cresce-42-ms-periodo-10-anos-306047>. Adaptado. Acesso em: 11 nov. 2017.)

Considerando que essa população cresceu cerca de 40% nesses últimos 10 anos, é correto afirmar que há uma década a população indígena era de aproximadamente

- (A) 71 mil habitantes.
- (B) 57 mil habitantes.
- (C) 48 mil habitantes.
- (D) 20 mil habitantes.
- (E) 120 mil habitantes.

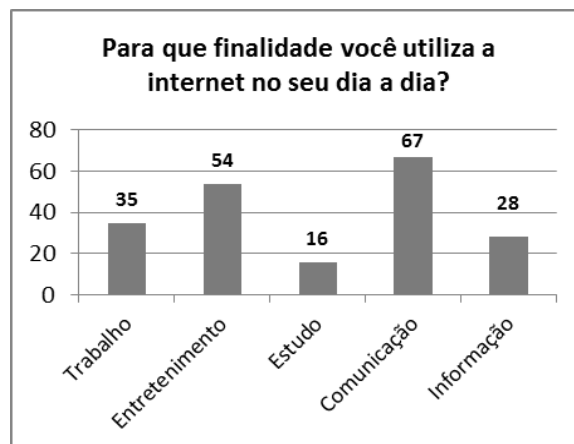
QUESTÃO 33

Acredita-se que a primeira bola de futebol do Brasil foi trazida em 1894 pelo paulista Charles William Miller. Segundo o Instituto Nacional de Metrologia, Qualidade e Tecnologia (INMETRO), o comprimento da circunferência de uma bola de futebol oficial deve estar entre 68 e 70 cm. Assim, uma bola com raio igual a 12 cm estaria de acordo com as normas do INMETRO? (Utilize $\pi = 3,14$).

- (A) Sim, pois sua circunferência é de aproximadamente 71,5 cm.
- (B) Não, pois sua circunferência é de aproximadamente 69,95 cm.
- (C) Sim, pois sua circunferência é de aproximadamente 69,95 cm.
- (D) Sim, pois sua circunferência é de aproximadamente 68,46 cm.
- (E) Não, pois sua circunferência é de aproximadamente 75,36 cm.

QUESTÃO 34

Realizou-se uma pesquisa com 200 pessoas para saber qual a finalidade da internet no seu dia a dia. O resultado da pesquisa pode ser observado no gráfico abaixo.



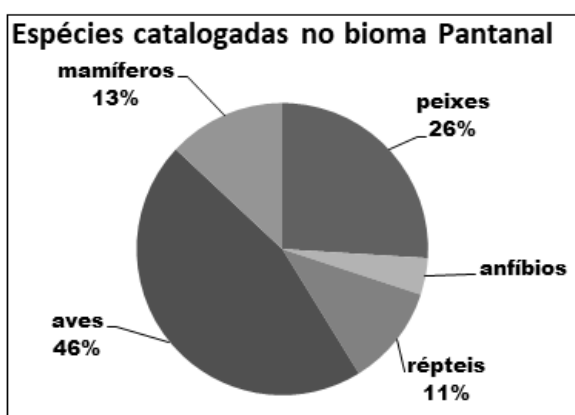
De acordo com o gráfico, é correto afirmar que

- (A) a maioria das pessoas utilizam a internet com a finalidade de obter informações.
- (B) 16% das pessoas que responderam à pesquisa utilizam a internet com a finalidade de trabalho.
- (C) 22% das pessoas que responderam à pesquisa utilizam a internet com a finalidade de trabalho ou estudo.
- (D) 27% das pessoas que responderam à pesquisa utilizam a internet com a finalidade de entretenimento.
- (E) 111 pessoas utilizam a internet com a finalidade de trabalho ou entretenimento.

QUESTÃO 35

A partir de uma parceria entre o Ministério do Meio ambiente e o Instituto Brasileiro de Geografia e Estatística (IBGE), os seis biomas continentais brasileiros foram mapeados. No Estado de Mato Grosso do Sul predominam os biomas Cerrado e Pantanal que, apesar de ser uma das maiores extensões úmidas contínuas do planeta, é o bioma de menor extensão territorial do Brasil. O número de espécies catalogadas que o bioma Pantanal abriga é igual a 1.012 e sua distribuição é apresentada no gráfico abaixo.

(Disponível em <http://www.mma.gov.br/biomas/pantanal>. Acesso em: 11 nov. 2017.)



De acordo com o gráfico, e com as informações do texto, é correto afirmar que o número de espécies de anfíbios catalogados é, aproximadamente, igual a

- (A) 14.
- (B) 40.
- (C) 60.
- (D) 600.
- (E) 77.

QUESTÃO 36

As raízes da equação $f(x) = x^2 - 14x + 48$ expressam, em cm, as medidas dos catetos de um triângulo retângulo. Nessas condições, escolha a alternativa que determina a medida da hipotenusa desse triângulo.

- (A) 6
- (B) 8
- (C) 9
- (D) 10
- (E) 14

QUESTÃO 37

A fábrica “Pé de Pano” utiliza a tabela abaixo para numerar seus calçados.

Número do sapato (adulto)	Comprimento do pé (cm)
35	22,5
36	23,5
37	24,5
38	25,5
39	26,5

Izabel foi até uma loja que vende somente calçados fabricados na “Pé de Pano”. Ao escolher o calçado, a vendedora perguntou qual a numeração do pé de Izabel, que respondeu: “Não sei. Apenas sei que o comprimento do meu pé é de 9,252 polegadas”. Sabendo que 1 polegada = 2,54 cm, qual a numeração do pé de Izabel?

- (A) 35
- (B) 36
- (C) 37
- (D) 38
- (E) 39

QUESTÃO 38

O valor da expressão $a^3 - 2ax^2y^2$, com $a = 8$, $x = -3$ e $y = -2$ é:

- (A) 1088
- (B) 64
- (C) - 64
- (D) - 360
- (E) 360

QUESTÃO 39

Um terreno retangular tem 90 m² de área e 42 metros de perímetro. Dessa forma, o comprimento e a largura, dados em metros, correspondem, respectivamente, a

- (A) 7 e 6.
- (B) 10 e 9.
- (C) 15 e 6.
- (D) 12 e 6.
- (E) 10 e 8.

QUESTÃO 40

Sabe-se que o produto de dois fatores é zero, se e somente se, um dos fatores for zero. Com isso, as raízes reais da equação $(2x-1).(3x+6)=0$ são:

- (A) -1 e 6.
- (B) 1 e -6.
- (C) -1/2 e 6.
- (D) 1/2 e -2.
- (E) 2 e 6.

CONHECIMENTOS GERAIS**QUESTÃO 41****HPV (Condiloma Acuminado)**

O condiloma acuminado, conhecido também como verruga genital, crista de galo, figueira ou cavalo de crista, é uma doença sexualmente transmissível (DST) causada pelo Papiloma Vírus Humano (HPV). Atualmente, existem mais de 100 tipos de HPV - alguns deles podendo causar câncer, principalmente no colo do útero e do ânus.

Entretanto, a infecção pelo HPV é muito comum e nem sempre resulta em câncer. O exame de prevenção do câncer ginecológico, o Papanicolau, pode detectar alterações precoces no colo do útero e deve ser feito rotineiramente por todas as mulheres. Não se conhece o tempo em que o HPV pode permanecer sem sintomas e quais são os fatores responsáveis pelo desenvolvimento de lesões. Por esse motivo, é recomendável procurar serviços de saúde para consultas periodicamente.

A infecção pelo HPV normalmente causa verrugas de tamanhos variáveis. No homem, é mais comum na cabeça do pênis (glande) e na região do ânus. Na mulher, os sintomas mais comuns surgem na vagina, vulva, região do ânus e colo do útero. As lesões também podem aparecer na boca e na garganta. Tanto o homem quanto a mulher podem estar infectados pelo vírus sem apresentar sintomas.

A principal forma de transmissão desse vírus é pela via sexual. Para ocorrer o contágio, a pessoa infectada não precisa apresentar sintomas. Mas, quando a verruga é visível, o risco de transmissão é muito maior. O uso da camisinha durante a relação sexual geralmente impede a transmissão do vírus, que também pode ser transmitido para o bebê durante o parto.

(Disponível em:
http://bvsmms.saude.gov.br/bvs/dicas/236_condiloma.html.
 Acesso em: 10 nov. 2017.)

Sabemos que além do condiloma acuminado, causado pelo HPV, existem outras doenças sexualmente transmissíveis. Assinale a alternativa que apresenta outros exemplos de DSTs.

- (A) Distensão Muscular; Estiramento Muscular; Infarto Agudo do Miocárdio; Acidente Vascular Cerebral (AVC); Traumatismo Craniano; Aids; Hepatite B.
- (B) Infarto Agudo do Miocárdio; Candidíase; Gonorreia; Aids; Herpes Genital; Hepatite B; Sífilis.
- (C) Acidente Vascular Cerebral (AVC); Aids; Hepatite B; Sífilis; Clamídia; Gonorreia; Candidíase.
- (D) Traumatismo Craniano; Herpes Genital; Gonorreia; Sífilis; Clamídia; Aids; Hepatite B.
- (E) Herpes Genital; Candidíase; Gonorreia; Clamídia; Sífilis; Hepatite B; Aids.

QUESTÃO 42**Febre Amarela: Sintomas e Transmissão**

A febre amarela é uma doença infecciosa grave, causada por vírus e transmitida por vetores. Geralmente, quem contrai este vírus não chega a apresentar sintomas ou os mesmos são muito fracos. As primeiras manifestações da doença são repentinas: febre alta, calafrios, cansaço, dor de cabeça, dor muscular, náuseas e vômitos por cerca de três dias. A forma mais grave da doença é rara e costuma aparecer após um breve período de bem-estar (até dois dias), quando podem ocorrer insuficiências hepática e renal, icterícia (olhos e pele amarelados), manifestações hemorrágicas e cansaço intenso. A maioria dos infectados se recupera bem e adquire imunização permanente contra a febre amarela.

A febre amarela ocorre nas Américas do Sul e Central, além de em alguns países da África e é transmitida por mosquitos em áreas urbanas ou silvestres. Sua manifestação é idêntica em ambos os casos de transmissão, pois o vírus e a evolução clínica são os mesmos — a diferença está apenas nos transmissores. No ciclo silvestre, em áreas florestais, o vetor da febre amarela é principalmente o mosquito *Haemagogus*. Já no meio urbano, a transmissão se dá através do mosquito *Aedes aegypti* (o mesmo da dengue). A infecção acontece quando uma pessoa que nunca tenha contraído a febre amarela ou tomado a vacina contra ela circula em áreas florestais e é picada por um mosquito infectado. Ao contrair a doença, a pessoa pode se tornar fonte de infecção para o *Aedes aegypti* no meio urbano. [...].

(Disponível em: <https://www.bio.fiocruz.br/index.php/febre-amarela-sintomas-transmissao-e-prevencao>. Acesso em: 10 nov. 2017.)

Admitindo-se apenas as formas eficazes de prevenção à doença tratada no texto acima, analise as alternativas e assinale a única correta.

- (A) A aplicação de inseticidas (fumacê) é o suficiente para combater o mosquito transmissor da doença.
- (B) Manter o acúmulo de água parada em recipientes destampados promovem a extinção do *Aedes aegypti*.
- (C) Evitar o acúmulo de água parada em recipientes destampados, tomar a vacina contra a febre amarela, usar repelente de insetos, mosquiteiros e roupas que cubram todo o corpo, são medidas recomendadas para evitar a doença.
- (D) O uso de repelente na pele dos seres humanos é a única forma de matar o mosquito transmissor da doença.
- (E) Isolar o indivíduo doente é a melhor prevenção, visto que a doença é contagiosa e pode passar diretamente de pessoa para pessoa.

QUESTÃO 43

A Sociologia vai ao *shopping center*

O estímulo ao consumo, presente nos *shopping centers* e na publicidade dos dias atuais, originou-se nessa fase do desenvolvimento do capitalismo em que se combinam produção industrial em massa e crescimento do mercado urbano com lojas de departamentos e galerias. O consumo de mercadorias começou, então, a significar um mergulho em fantasia e *status* social, uma vez que os objetos passaram a ser adquiridos não pela sua utilidade imediata, mas pelo significado social de sua posse. A utilidade dos produtos passa a se submeter ao valor monetário e social que eles adquirem na complexa engrenagem da produção e circulação dos bens do capitalismo. Assim, a aparência das mercadorias passa a ser de fundamental importância para a sua venda.

Nas sociedades capitalistas, o homem não produz mais apenas para satisfazer suas necessidades originais. Existem outras necessidades em jogo que são as necessidades de valorização do capital. [...] A produção capitalista gera excedentes que não são calculados com base nas necessidades para estimular a demanda e o consumo. Assim, a produção deve visar a um consumo descartável, uma cultura do desperdício, o que reflete o princípio da "obsolescência planejada" (os objetos são feitos para serem obsoletos). Esse sistema precisa sempre aumentar a produção de mercadorias em quantidade e variedade, mas não em qualidade e durabilidade.

(PADILHA, Valquíria. A sociologia vai ao *shopping center*. Ciência Hoje. Rio de Janeiro: Instituto Ciência Hoje, n. 237, p. 32, mai. 2007. Texto retirado do livro: LUCCI, Elian Alabi e BRANCO, Anselmo Lazaro. Geografia: homem & espaço, 8º ano. 27.ed. São Paulo: Saraiva, 2015, p. 66.)

Assinale a alternativa que corresponde ao conceito de Capitalismo.

- (A) Conjunto de doutrinas que se propõe a promover o bem comum pela transformação da sociedade e das relações entre as classes sociais, mediante a alteração do regime de propriedade.
- (B) Teoria que considera a autoridade um mal e preconiza a substituição do Estado pela cooperação de grupos associados.
- (C) Sistema econômico e social baseado na propriedade privada dos meios de produção, na organização da produção, visando lucro e empregando trabalho assalariado, e no funcionamento do sistema de preços.
- (D) Regime político em que o chefe do governo é o Presidente da República, mantendo-se a independência e a harmonia do Executivo, do Legislativo e do Judiciário.
- (E) Regime político em que o gabinete, constituído pelos Ministros de Estado, é responsável perante o parlamento, que através dele governa a nação.

QUESTÃO 44

A Guerra do Paraguai foi o maior conflito armado internacional ocorrido na América do Sul no século 19. Rivalidades platinas e a formação de Estados nacionais deflagraram o confronto, que destruiu a economia e a população paraguaias. É também chamada Guerra da Tríplice Aliança (*Guerra de la Triple Alianza*) e de Guerra Grande. A Guerra do Paraguai durou seis anos. Teve seu início em dezembro de 1864 e só chegou ao fim no ano de 1870, com a morte de Francisco Solano Lopes em Cerro Cora.

(Disponível em: <http://www.sohistoria.com.br/ef2/guerraparaguai/> Acesso em 10 nov. 2017.)

A Tríplice Aliança, união de países que lutaram contra o Paraguai nesse conflito, era formada por

- (A) Brasil, Argentina e Colômbia.
- (B) Brasil, Argentina e Uruguai.
- (C) Brasil, Argentina e Bolívia.
- (D) Brasil, Argentina e Chile.
- (E) Brasil, Argentina e Equador.

QUESTÃO 45

A Pulchellina, proteína originária de uma planta existente na flora brasileira, foi capaz de combater células infectadas com o vírus HIV, após ter sido conjugada à ação de anticorpos usados especificamente na detecção do vírus. Dados divulgados pelo Departamento de HIV da Organização Mundial da Saúde (OMS) evidenciam que, em 2015, eram 36,7 milhões de pessoas vivendo com HIV. [...] O HIV se instala nos glóbulos brancos (leucócitos), células do sistema imunológico que defendem o organismo contra doenças, infecções e outras complicações, liberando proteínas que se distribuem na membrana externa dos leucócitos para enganar o sistema de defesa, transmitindo a mensagem de que as células infectadas estão sadias.

(Disponível em: <http://jornal.usp.br/ciencias/ciencias-da-saude/proteina-extraida-de-planta-brasileira-pode-combater-celulas-com-hiv/>. Acesso em: 10 nov. 2017.)

O HIV, vírus causador da Aids, pode ser transmitido pela pessoa infectada a partir

- (A) do compartilhamento de copos, pratos e talheres.
- (B) da convivência em salas de aula e outros ambientes de uso coletivo.
- (C) de abraços e apertos de mão.
- (D) de relações sexuais sem uso de preservativos, transfusão sanguínea, gestação, parto e amamentação.
- (E) da internet.

QUESTÃO 46**O apanhador de desperdícios**

Uso a palavra para compor meus silêncios.
 Não gosto das palavras
 fatigadas de informar.
 Dou mais respeito
 às que vivem de barriga no chão
 tipo água pedra sapo.
 Entendo bem o sotaque das águas
 Dou respeito às coisas desimportantes
 e aos seres desimportantes.
 Prezo insetos mais que aviões.
 Prezo a velocidade
 das tartarugas mais que a dos mísseis.
 Tenho em mim um atraso de nascença.
 Eu fui aparelhado
 para gostar de passarinhos.
 Tenho abundância de ser feliz por isso.
 Meu quintal é maior do que o mundo.
 Sou um apanhador de desperdícios:
 Amo os restos
 como as boas moscas.

Querira que a minha voz tivesse um formato de canto.

Porque eu não sou da informática:
 eu sou da invencionática.

Só uso a palavra para compor meus silêncios.

O texto acima é de um poeta brasileiro que viveu entre os séculos XX e XXI. Nascido em 1916, mudou-se para Campo Grande, capital de Mato Grosso do Sul, onde viveu pelo resto da sua vida. Recebeu vários prêmios literários, entre eles dois Prêmios Jabutis, e foi membro da Academia Sul-Mato-Grossense de Letras. É considerado um dos mais aclamados poetas brasileiros da contemporaneidade nos meios literários. Sua obra mais conhecida é o "Livro sobre Nada" de 1996. O poema e o trecho da biografia mencionada fazem referência a

- (A) Érico Veríssimo.
- (B) Manoel de Barros.
- (C) Mário Quintana.
- (D) Jorge Amado.
- (E) Monteiro Lobato.

QUESTÃO 47

Desenvolvimento sustentável é aquele que 'satisfaz as necessidades presentes, sem comprometer a capacidade das gerações futuras de suprir suas próprias necessidades'. Ou seja, é o desenvolvimento econômico, social, científico e cultural das sociedades, garantindo mais saúde, conforto e conhecimento, mas sem exaurir os recursos naturais do planeta.

(HAMMES, Valéria Sucena. O que é desenvolvimento sustentável. *O Estado de S. Paulo, São Paulo, 28 jul. 2004*. Trecho retirado do livro: LUCCI, Elian Alabi e BRANCO, Anselmo Lazaro. *Geografia: homem & espaço*, 8º ano. 27.ed. São Paulo: Saraiva, 2015, p. 68.)

Entendendo a importância do desenvolvimento sustentável, no tocante ao que se costuma denominar como o "despertar da consciência ecológica", surgiram as principais conferências mundiais sobre o meio ambiente para discutir as melhores estratégias, metas e ações voltadas à preservação ambiental. Nesse contexto, **identifique** a conferência ambiental internacional que gerou um documento final intitulado "O futuro que queremos" e teve como uma das decisões mais importantes o consenso sobre a necessidade de fortalecer o poder de atuação e de decisão do Pnuma (Programa das Nações Unidas para o Meio Ambiente).

- (A) Eco-92 ou Rio-92, em 1992.
- (B) Protocolo de Kyoto, em 1997.
- (C) Rio+10, em 2002.
- (D) Rio+20, em 2012.
- (E) Conferência de Estocolmo, em 1972.

QUESTÃO 48

Os Símbolos Nacionais do Brasil encontram-se descritos na Constituição Federal, tendo sido definidos na Lei nº 5.700, de 1º de setembro de 1971, e atualizados por meio da Lei nº 8.421, de 11 de maio de 1992. Além de estabelecer quais são os símbolos, a Constituição Federal e as leis supracitadas fazem também determinações sobre como devem ser usados, padrões e formatos, significados, etc. Esses símbolos são de extrema importância para nossa nação, pois representam o Brasil dentro e fora do território nacional. Logo, devem ser respeitados por todos os cidadãos brasileiros. Os Símbolos Nacionais são usados em cerimônias, documentos oficiais, eventos e localidades oficiais.

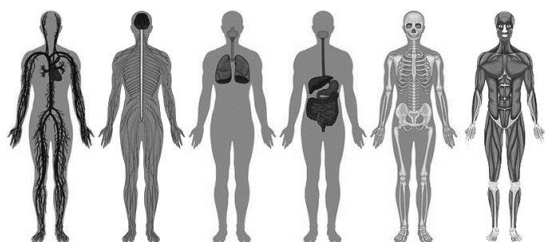
(Disponível em: <http://www.sohistoria.com.br/ef2/simbolosnacionais/>.
Adaptado. Acesso em: 10 nov. 2017.)

Dentre as alternativas abaixo, escolha aquela cujo símbolo representa a glória, a honra e a nobreza do Brasil, e seu uso é obrigatório nos edifícios dos três poderes (Executivo, Legislativo e Judiciário) dos governos federal, estaduais e municipais.

- (A) Bandeira Nacional.
- (B) Hino Nacional.
- (C) Selo Nacional.
- (D) Congresso Nacional.
- (E) Armas Nacionais ou Brasão Nacional.

QUESTÃO 49

Sabemos que o corpo humano é formado por estruturas de diferentes tipos, que se agrupam de diversas maneiras formando tecidos, órgãos e sistemas que realizam todas as funções necessárias à manutenção da vida, conforme ilustrado na imagem a seguir.



(Disponível em: <http://biologianet.uol.com.br/anatomia-fisiologia-animal/principais-sistemas-corpo-humano.htm>.
Acesso em: 12 set. 2017.)

A “unidade básica da vida” responsável pela formação de todos esses tecidos, órgãos e sistemas que, juntos, formam o corpo humano é

- (A) a célula.
- (B) o átomo.
- (C) o retículo endoplasmático.
- (D) a mitocôndria.
- (E) o complexo de Golgi.

QUESTÃO 50

A Copa do Mundo da Rússia terá 11 sedes, com 12 estádios diferentes – dois deles em Moscou. Além da capital do país, a FIFA (*Fédération Internationale de Football Association*) e o COL (Comitê Organizador Local) optaram por escolher cidades importantes como São Petesburgo, a segunda maior, e Kazan, com importância histórica, além de Sochi, que abrigou a Olimpíada de Inverno de 2014. Todas as sedes estão na parte europeia da Rússia, com Iecaterimburgo sendo a cidade mais ao oriente de todo o Mundial e Caliningrado, a mais próxima do restante da Europa – inclusive esta é a única sede separada no território russo, sem conexão direta: trata-se de um enclave situado entre a Lituânia e a Polônia.

(Disponível em: <https://globoesporte.globo.com/futebol/copa-do-mundo/rumo-a-russia/noticia/as-sedes-e-os-estadios-conheca-as-11-cidades-que-receberao-jogos-da-copa.ghtml>.
Adaptado. Acesso em: 12 set. 2017.)

Sabemos que até agosto de 1991, a União das Repúblicas Socialistas Soviéticas, bloco econômico do qual a Rússia foi o principal e o mais importante país membro, seguia uma ideologia política e econômica defendida por vários outros países, mas que, atualmente, possui poucos seguidores. Essa doutrina é conhecida como

- (A) Comunismo.
- (B) Feudalismo.
- (C) Capitalismo.
- (D) Teocentrismo
- (E) Estado Islâmico.